


場所	展示室	ゾーン	ワークシートNo.
2階	おもしろ実験ひろば	-	47


ふしぎ鏡のふしぎを探ろう

Q1 鏡に映る、右手を上げた自分の姿をスケッチしよう。


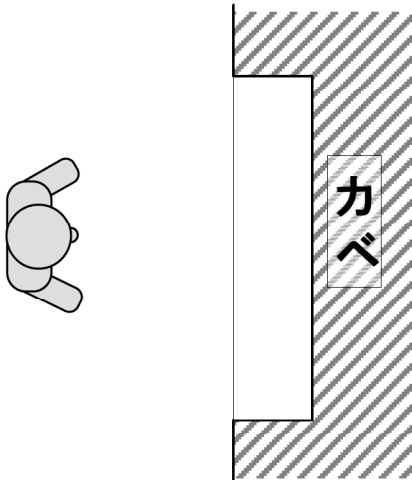
鏡の中にかきこもう。




鏡に一番近い線に立って




Q2 上から見た鏡の形をスケッチしよう。



真ん中の線に立って



Q1の3つのスケッチが、なぜそんな姿になったのかも、鏡の形から考えてみよう。



鏡から一番遠い線に立って

